

למכירה

הספר/חוג:

מס': 202 נבחן מס': 26

שם הקורס: ערוץ הטלגרם והקבוצות הישן

למחשבי ERP-SAP

תאריך הבחינה: 22/3/2015

שם המרצה: אריאל ארנון

הוראות מילוי לדרך הקידוד:

1. יש לסמן ב-X מלא תשובה נכונה.

2. הסימון יהיה בעט שחור או כחול בלבד.

3. לשינוי תשובה נכונה מלא/ באופן מוחלט את הריבוע.

אין למחוק בטיפקס.

4 3 2 1

.26

.27

.28

.29

.30

.31

.32

.33

.34

.35

.36

.37

.38

.39

.40

.41

.42

.43

.44

.45

.46

.47

.48

.49

.50

4 3 2 1

.1

.2

.3

.4

.5

.6

.7

.8

.9

.10

.11

.12

.13

.14

.15

.16

.17

.18

.19

.20

.21

.22

.23

.24

.25

מס' תעודת זהות

(מס' בן תשע ספרות, כולל ספרת ביקורת ואפס מקדים)

3 1 2 5 4 3 8 0 4

0505021469
312543804

6



יש לקדד מספר שאלון במדויק!!


(מס' שאלון מופיע בציודו השמאלי העליון של השאלון)

שאלון שלא יקודד כראוי

לא יבדק!

מס' השאלון

| | | | | |
|---|-------------------------------------|-------------------------------------|-------------------------------------|---|
| 0 | 0 | 3 | | |
| ↓ | ↓ | ↓ | | |
| 0 | <input checked="" type="checkbox"/> | <input checked="" type="checkbox"/> | <input type="checkbox"/> | 0 |
| 1 | <input type="checkbox"/> | <input type="checkbox"/> | <input type="checkbox"/> | 1 |
| 2 | <input type="checkbox"/> | <input type="checkbox"/> | <input type="checkbox"/> | 2 |
| 3 | <input type="checkbox"/> | <input type="checkbox"/> | <input checked="" type="checkbox"/> | 3 |
| 4 | <input type="checkbox"/> | <input type="checkbox"/> | <input type="checkbox"/> | 4 |
| 5 | <input type="checkbox"/> | <input type="checkbox"/> | <input type="checkbox"/> | 5 |
| 6 | <input type="checkbox"/> | <input type="checkbox"/> | <input type="checkbox"/> | 6 |
| 7 | <input type="checkbox"/> | <input type="checkbox"/> | <input type="checkbox"/> | 7 |
| 8 | <input type="checkbox"/> | <input type="checkbox"/> | <input type="checkbox"/> | 8 |
| 9 | <input type="checkbox"/> | <input type="checkbox"/> | <input type="checkbox"/> | 9 |





המסלול האקדמי המכללה למינהל

בית הספר לכלכלה

ת.ז. הסטודנט: 312543804

מס' חדר: ג' 2002 מס' מבחן: ב' ג'

מבחן בקורס ניהול, הטמעה ועקרונות היישום למערכות ERP-SAP

תאריך הבחינה: 22/3/2015 שעה - 16:00

שנה"ל: תשע"ה, סמסטר: א', מועד: ב

שם המרצה/ים: ד"ר איתמר שבתאי, רו"ח דרור נהרי, מר בני לבוב,

גב' יעל קיזלשטיין, גב' אורין אלון-נוימן

שם המתרגל/ים: מר אבי ג'ינג'יחשילי, מר צפי ססי

משך הבחינה: 2 שעות

מספר חלקים בבחינה: 1

הוראות לנבחן:

- מספר השאלות בשאלון: 25
- יש לענות על כל השאלות.
- משקל כל שאלה: 4 נקודות
- הבחינה: ללא חומר עזר מלבד מחשב (לצורך עבודה על מערכת ה-SAP)
- שימוש במחשבון כיס/פיננסי: לא
- מחברת טיוטה: לא
- יש לבחור את התשובה הנכונה ביותר ולסמן את התשובה בדף הקידוד.
- יש לסמן את התשובה בדף הקידוד בעט שחור או כחול בלבד באופן ברור.
- רק דף הקידוד ייבדק!
- יש להחזיר את טופס השאלון!
- אין לסמן את התשובות על גבי השאלון בטוש זוהר (מרקר)!

***** חשוב מאוד:**

בדף הקידוד יש לרשום ולקדד את מספר השאלון מוצמד לימין (להוסיף אפסים משמאל).

יש לרשום את מס' תעודת הזהות במקום המיועד בכתב יד ברור (כולל ספרת הביקורת).

בהצלחה !!!

1. איזה משפט מהבאים נכון במערכת ה-SAP ?

- ניתן להקים חומר חדש במערכת מתוך הזמנת רכש.
- לא ניתן לבצע דרישת רכש לחומר שאינו קיים במערכת.
- הכרחי שהחומר יהיה קיים במערכת רק בשלב קליטת הטובין.
- ניתן לבצע דרישת רכש לחומר שאינו קיים במערכת ולהקים אותו בשלב ההזמנה.

✓
✓
*

2. לפניך צילום מסך המייצג את אחת משורותיה של פקודת יומן שנרשמה במערכת:

| | |
|-----------------------|-------------------|
| נתונים נוספים | |
| ספק | 103471 מחשב בראש |
| קוד חברה | 1000 7 גולדה מאיר |
| החברה לחוכמה ותבונה | ראשון לציון |
| שורה 1 / חשבונית / 31 | |
| סטס | 520.00 EUR |
| נתונים נוספים | |
| תחום עסקי | 1000 Trdg part.BA |
| תאריך ש.ב. | 11.01.2015 |
| חסימת תשלום | |
| שיטת תשלום | |
| הקצאה | 20150111 |
| טקסט | טקסט אחר |

בחר את המשפט הנכון ביותר:

- 1. חשבון ההתאמה אליו מקושר הספק הינו 160000.
- 2. חשבון ההתאמה לא רלוונטי כלל לשורה זו בפקודה.
- 3. חשבון ההתאמה אליו מקושר הספק הינו 103471.
- 4. חשבון ההתאמה אליו מקושר הספק הינו 20150111.

✓
✓

3. איזה משפט מהבאים נכון לגבי פעולות ותהליכים במערכת ה-SBO ?

- 1. הזמנת רכש משנה את הכמות במלאי ואת הכמות הזמינה.
- 2. לא ניתן לקלוט חשבונית מספק (תעודת רכש) ללא הזמנת רכש או תעודת משלוח רכש.
- 3. ניתן לקלוט חשבונית מספק (תעודת רכש) גם ללא מסמכים מקדימים של הזמנת רכש או תעודת משלוח רכש.
- 4. תעודת משלוח רכש משפיעה על יתרות הספק.

הזמנת רכש משנה את הכמות במלאי ואת הכמות הזמינה.

✓
✓
הזמנת רכש משנה את הכמות במלאי ואת הכמות הזמינה.

4. מרכז עלות משמש בעיקר ל:

- 1. הזמנות רכש פנים ארגוניות.
- 2. איסוף עלויות והכנסות לגבי פעילות בעלת מאפיינים של פרויקט.
- 3. איסוף עלויות על פי המבנה הארגוני במודול הבקרה.
- 4. חלוקת משנה של קוד החברה בהתאם לפעילות העסקית.

✓
✓

5. ביצעתי סטורנו לפקודת יומן, ולאחר מכן נודע לי שלא היה צורך בכך. מה ניתן לעשות?

- לבצע סטורנו לפעולת הסטורנו.
- לבצע פעולת ישחזור פקודה אוטומטי.
- באישור מנהל ניתן להריץ רה-סטורנו.
- ליצור בשנית את פקודת היומן המקורית (זו שבוטלה בטעות).

6. נתון צילום מסך של דוח מסמכי חומר במערכת ה-SAP. מה יכולה להיות הסיבה שלא מופיע אתר אחסון ליד השורה הראשונה בדוח?

| חומר | תיאור חומר | כמות ביחידת חומר י.ר. | אתר מס 1 |
|----------|--------------|-----------------------|---------------|
| 10190 | קופסת נפליים | | 1000 ראם העין |
| 101 | 1 4900019403 | 50 | 11.01.2015 FC |
| 561 0001 | 1 100006160 | 100 | 11.01.2015 FC |
| 201 0002 | 1 100006162 | -15 | 11.01.2015 FC |
| 561 0002 | 2 100006160 | 50 | 11.01.2015 FC |
| 561 0001 | 1 4900045621 | 100 | 29.11.2009 FC |
| 561 0002 | 2 4900045621 | 50 | 29.11.2009 FC |

- החומר הגיע ונקלט למטרות צריכה.
- החומר נמצא בהזמנה אך טרם הגיע לארגון.
- החומר נמצא במלאי מסוג ביקורת טיב.
- החומר נמצא בסוג מלאי חסום.

7. נתון צילום מסך של אזור נתוני כותרת של הזמנת רכש במערכת ה-SAP - לשונית סטטוס. מה ניתן ללמוד מהנתונים המופיעים בצילום מסך זה?

| מספר/חשבונית | הגאים | טקסטים | כתובת | תקשורת | שורות | נתונים טכניים | נתג. ארג. | סטטוס |
|-----------------|------------|------------|-------|--------|-------|---------------|-----------|-------|
| פעיל | החנן | EUR 515.00 | | | | | | |
| טרם נשלח | סופק | EUR 450.00 | | | | | | |
| אספקה חלקית | טרם סופקה | EUR 65.00 | | | | | | |
| לא הופקה השבנית | חשב. הופקה | EUR 0.00 | | | | | | |
| | מקדמות | EUR 0.00 | | | | | | |

- שולם לספק בגין הזמנה זו 450 יורו ויתרת החוב כלפיו עומדת על 65 יורו.
- התקבלה חשבונית בסך 450 יורו ומתוכה שילמנו לספק 65 יורו.
- הזמנו חומרים בסך 515 יורו וחשבונית חלקית בסך 450 יורו.
- הזמנו חומרים בסך 515 יורו ומתוכם התקבלו במחסן חומרים בערך 450 יורו.

8. באיזה מצב מהבאים נוכל לקלוט חשבונית מספק בגין הזמנת רכש במערכת ה-SAP?

- לא התקבלו כל הטובין מההזמנה וישנה חוסר התאמה בין המחירים המופיעים בה לבין המחירים בהם חויבנו בפועל.
- המחירים בהם חויבנו אינם תואמים את המחירים המופיעים בהזמנה.
- לא התקבלו כל הטובין מההזמנת הרכש והחיוב הוא על ערכה המלא של ההזמנה.
- קיימת התאמה בין הכמויות שקיבלנו לבין הכמויות שחויבנו והמחירים תואמים לאלו המופיעים בהזמנת הרכש.

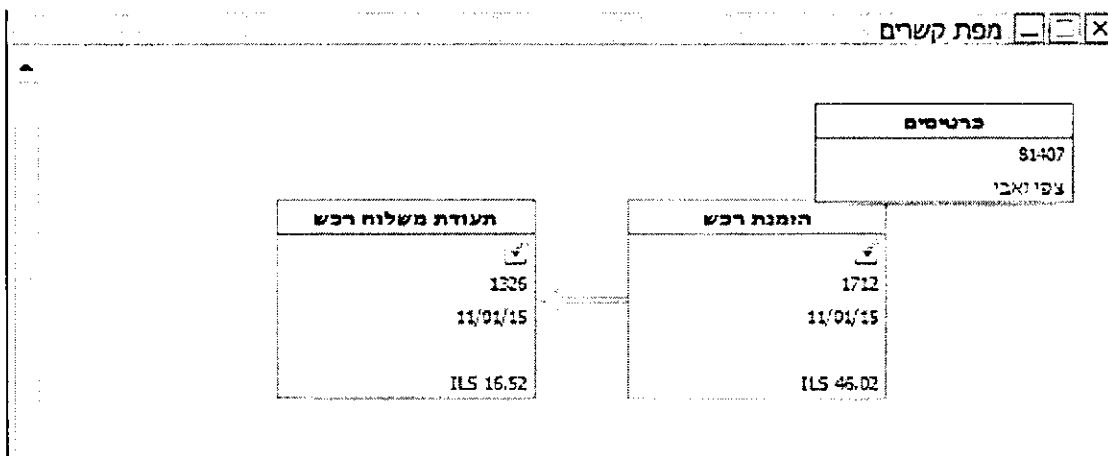
9. איזה משפט מהבאים הוא הנכון ביותר:

- ביישום של מערכת ERP מומלץ לשנות את התהליכים הקיימים במערכת לפי התהליכים של הארגונים המתחרים.
- (2) מודול CO יהיה דומה בכל סוגי התעשיות.
- מערכת BI הינה מערכת לניהול קשרי לקוחות.
- יש יותר מתשובה אחת נכונה.

10. מהו תרשים חשבונות (Chart of accounts) ?

- (1) התאגיד, אינדקס חשבונות ראשי הנמצא מעל קוד החברה.
- יישות המהווה חלק מחלוקת המשנה של קוד החברה.
- שם נוסף לקוד החברה במערכת.
- הספר הראשי, ספר ה-GL המכיל את כלל חשבונות החברה.

11. נתונה מפת קשרים במערכת ה-SBO. איזו פעולה תשנה את סטטוס תעודת משלוח הרכש מפתוח לסגור?



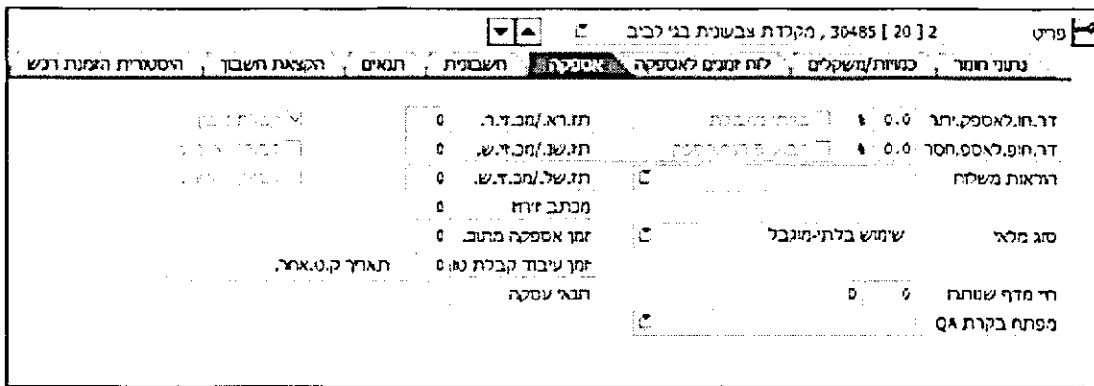
- תעודת רכש בסימוכין לתעודת משלוח הרכש.
- (2) תשלום לספק עבור הפריטים שהתקבלו מההזמנה.
- תעודת משלוח רכש על הכמות הפתוחה בהזמנת הרכש.
- יצירת הזמנת רכש נוספת עבור אותם פריטים הקיימים בהזמנה שבצילום המסך.

12. איזה משפט מהבאים אינו נכון בנושא הקמת פריטים במערכת ה-SBO ?

- 1. ניתן להזמין כל פריט ובתנאי שיש עבורו כרטיס פריט.
- (2) ניתן להקים פריט במודול מלאי ולאחר מכן להזמין אותו.
- 3. ניתן להזמין פריט גם אם אינו קיים במערכת.
- 4. ניתן להקים פריט תוך כדי יצירת הזמנת רכש.

תאם הכולל שניתן להזמין פריט כש
 כ' יתן כפי התאמה ~~לכל~~ מקומות
 אר הפריט?

13. נתון צילום מסך של אזור פרטי פריט של הזמנת רכש במערכת ה-SAP - לשונית אספקה. על פי איזה שדה נוכל לדעת האם התקבלה כל הכמות מחומר זה ?




- קבלת טובין.
- קב.הטו.אי.מוע.
- זמן אספקה מתוכנן.
- אספקה הושלמה. (4)

14. איזה משפט מהבאים נכון לגבי דרישת רכש במערכת ה-SAP ?

- מסמך מחייב שיוצא לספק ובו מופיעים חומרים, כמויות, מחירים ותנאי תשלום.
- מסמך המבטא בקשה של המשתמש לקבלת חומרים מהמלאי. (1)
- מסמך המבטא פנייה של הארגון לספקים לצורך קבלת הצעות מחיר לחומרים.
- מסמך המבטא צורך של משתמש בארגון לקבלת חומרים. (4)

15. לפניך צילום מסך של תשלום לספק ממערכת ה-SBO. מה ניתן ללמוד מצילום מסך זה ?



- לא ניתן לדעת האם אנחנו חייבים לספק או הוא לנו, מאחר ויתכן כי קיימות חשבוניות נוספות לתשלום (תעודות רכש שנקלטו).
- אנו חייבים לספק 16.52 ש"ח, ומאחרים בתשלום ב50 יום.
- אנו חייבים לספק 16.52 ש"ח, ויש לנו עוד 50 יום למועד התשלום. (3)
- הספק חייב לנו 16.52 ש"ח, ומאחר בתשלום ב50 יום.

16. לפניך צילום מסך המתאר את קוד הטרנזקציה FB60 'הזנת חשבונית ספק'

הזנת חשבונית ספק: קוד חברה 1000

הפעלת עץ קוד חברה החזקה הדמיה המתנה אפשרויות עריכה

תנועה R החשבונות יתרה 0.00

תשלום פרטים מס הערות מטבע מקומי

ספק 103471 ס.ס.ח.ר

תאריך חשבונית 11.01.2015 סימכון 1524555

תאריך רישום 11.01.2015

מספר בין חברתי

סכום 520.00 EUR חישוב מס

טקסט QI VI (הע"מ תשמיית ב/ל)

קוד חברה 1000 החברה לחוכמה ותבונה ראשון לציון

1 פרטים (לא נבחר ואריינט הזנה)

| מס | חשבון G/L | טקסט קצר | ח/ח | סכום במטבע מסמך | סכום במטבע מקומי | ק | קוד תחום שיפוט | ל | מספר הקצאה |
|----|-----------|---------------|-----|-----------------|------------------|----|----------------|---|------------|
| ✓ | 907624 | הוצאות S 2020 | | 520.00 | 520.00 | וז | וז | | |
| | | S חייב | | 0.00 | 0.00 | וז | וז | | |
| | | S חייב | | 0.00 | 0.00 | וז | וז | | |
| | | | | 0.00 | 0.00 | וז | וז | | |

בחר במשפט הנכון ביותר המתאר את המסך הנ"ל:

1. סכום החשבונית של הספק הינו EUR 520 כולל מע"מ.
2. התשלום לספק הינו עפ"י שוטרף+30.
3. התשלום לספק בוודאות יבוצע באמצעות העברה בנקאית.
4. סכום החשבונית של הספק הינו EUR 520 לפני מע"מ.

17. נתונות עבור פריט מסוים רמות המלאי הבאות במערכת ה-SBO:

| כמות במלאי | כמות בהתחייבות | כמות מוזמנת | כמות זמינה |
|------------|----------------|-------------|------------|
| 0 | 0 | 0 | 0 |

לאחר ביצוע פעולה מסוימת במערכת, השתנתה הכמות המוזמנת ל-20 והכמות הזמינה ל-20. מהי הפעולה שבוצעה?

המלאי משתנה
המלאי הכולל
המלאי המזמין

כמות זמינה = 0
כמות מוזמנת = 20
כמות בהתחייבות = 0
כמות במלאי = 20

1. הזמנת רכש.
2. תעודת רכש.
3. תשלום לספק.
4. תעודת משלוח רכש.

18. איזה משפט מהבאים הוא הנכון ביותר:

1. משא ומתן עם הספקים היא פעילות אופיינית לחטיבת הרכש.
2. הכנת משכורות הוא תהליך אופייני לחטיבת הייצור.
3. בקרה תקציבית היא פעילות אופיינית לחטיבה הפיננסית.
4. יש יותר מתשובה אחת נכונה.

האם המוצר בקניינית - סוללה
מבחינת התקציב FM?

19. אלמנט עלות (Cost Element) הינו:

- הסעיף התקציבי ממנו תגרע ההוצאה.
 - מהות הסעיף התוצאתי במודול התמחיר.
 - היישות אליה יועמסו העלויות בדרך כלל על-פי המבנה הארגוני.
 - החשבון אליו יירשמו ההוצאות בספר הראשי (GL).
- כג' לא שגב' אל'*

20. נתון צילום מסך של אזור פרטי פריט של הזמנת רכש במערכת ה-SAP - לשונית הקצאת חשבון. בהנחה והחומר המוזמן הגיע ונקלט בארגון (בוצעה עבורו קליטת טובין) - מה ניתן לומר בודואות על מצב המלאי לחומר זה ?

The screenshot shows the SAP 'קצאת חשבון' (Cost Element Assignment) screen. The main data area contains the following information:

| | |
|------|--------------|
| חברת | 1000 |
| מספר | 9993 |
| שם | פרט התחייבות |
| מספר | 9993 |
| שם | פרט התחייבות |

Additional fields visible include 'קט.קצ.חש' (Cost Element Category) and 'מספר' (Number).

קליטת טובין לא נעשתה עדיין

- החומר ייקלט למלאי מסוג בקרת איכות.
- לא ניתן לדעת מצילום המסך המצורף.
- המלאי יגדל.
- המלאי יישאר ללא שינוי (החומר מוזמן לצריכה).

21. מה מבין המשפטים הבאים לא נכון לגבי מסמך בהחזקה:

ההשתמשותף מקבל מספר חשבונית

- ניתן למחיקה.
- ניתן לתיקון ושמירה נוספת.
- המערכת מקצה עבורו מספר במערכת.
- המשתמש מקצה עבורו מספר במערכת.

22. מה מהבאים מהווים תנאי תשלום (ברשומת אב ספק):

- ציק, מסייב.
- שוטף+30, מידי, שוטף+120.
- מועד הספקה, מועד רישום בספרים.
- הנחת פריט, הנחת הזמנה.

23. להלן יתרת ספק 'מי הטבע' לשנת 2010. מהי ההתחשבויות בין החברה לספק בתום הרבעון השלישי.

| תקופה | חוב | זיכוי | יתרה | יתרה מצטברת |
|-------|-----------|-----------|------------|-------------|
| 1 | | 100.00 | -100.00 | -100.00 |
| 2 | | 100.00 | -100.00 | -200.00 |
| 3 | 1.00 | 101.00 | -100.00 | -300.00 |
| 4 | | 100.00 | -100.00 | -400.00 |
| 5 | 8,810.00 | 15,410.00 | -6,600.00 | -7,000.00 |
| 6 | 1,600.00 | 4,120.41 | -2,520.41 | -9,520.41 |
| 7 | 400.00 | 500.00 | -100.00 | -9,620.41 |
| 8 | 2,250.00 | 2,300.00 | -50.00 | -9,670.41 |
| 9 | 2,300.00 | 100.00 | 2,200.00 | -7,470.41 |
| 10 | 200.00 | 1,200.00 | -1,000.00 | -8,470.41 |
| 11 | | 100.00 | -100.00 | -8,570.41 |
| 12 | | 4,600.00 | -4,600.00 | -13,170.41 |
| 13 | | | | -13,170.41 |
| 14 | | | | -13,170.41 |
| 15 | | | | -13,170.41 |
| 16 | | | | -13,170.41 |
| סה"כ | 15,561.00 | 28,731.41 | -13,170.41 | -13,170.41 |

- הספק חייב לחברה 7470.41 ש"ח.
- (2) החברה חייבת לספק 7470.41 ש"ח.
- הספק חייב לחברה 2200 ש"ח.
- החברה חייבת לספק 2200 ש"ח.

24. איזה משפט מהבאים הוא הנכון ביותר:

- מערכות ERP מושתתות על העיקרון של בסיס נתונים נפרד לכל פונקציה בארגון.
- יש יותר מתשובה אחת נכונה.
- BPR היא מערכת לניהול קשרי ספקים.
- לפי ה-EPC (Event Process Chain), אירוע מניע פונקציות ותהליכים.

Supply

מלאו ס 5

25. נתון צילום מסך של דוח מלאי במערכת ה-SAP לחומר קופסת נעליים. על פי צילום המסך, מה תהיה כמות המלאי באתר 1000 (ראש העין) בהנחה שכל הכמות המשוריינת תנופק, ובנוסף, כל המלאי לפי הזמנה יגיע לארגון?

| מלאי כפי הנת | הזמנת שריתים | מש"ן | כדידת איסת | שערי ברת-מגבל | לש/חוד חברה/אתר/מקום אחר/סדר/המלאי מייז |
|--------------|--------------|---------|------------|---------------|---|
| 100.000 | 70.000 | 120.000 | 760.000 | 760.000 | מלא |
| 100.000 | 70.000 | 120.000 | 760.000 | 760.000 | 1000 החברה להזמנה ותכונה |
| 100.000 | 70.000 | 120.000 | 760.000 | 760.000 | 1000 ראש העין |
| | | 20.000 | 180.000 | 180.000 | 1000 מייזק ניכר |
| | | | 65.000 | 65.000 | 1000 משידים |
| | | 100.000 | | | 1000 תעבדה |
| | | | 515.000 | 515.000 | 1000 תפסת יצר |

- 910
- 760
- 880
- לא ניתן לדעת

$$100 - 70 + 120 + 760 = 910$$

150
 760
 150
 910
 אלוטו מרגל
 זהו אחר ע"ש
 אחרת חס"ן
 ספקים מנג אלו רואים
 8/8
 אחרת חס"ן אלא י משו
 'plon'